

**ZESTAW PYTAŃ I ODPOWIEDZI PRZYGOTOWUJĄCYCH
DO
EGZAMINU NA KARTĘ ROWEROWĄ**

§1. OBOWIĄZKOWE WYPOSAŻENIE ROWERU

1. Jakie jest obowiązkowe wyposażenie roweru?

§2. ZASADY RUCHU DROGOWEGO

1. Co nazywamy drogą i jakie są jej elementy?
2. Co to jest przejście dla pieszych i jak jest ono oznakowane?
3. Po czym poznasz pojazd uprzywilejowany?
4. Co to znaczy ustąpić pierwszeństwa przejazdu?
5. Jak należy się zachować na drodze widząc jadący pojazd uprzywilejowany?
6. Na czym polega zasada ruchu prawostronnego?
7. Jak należy się zachować, gdy na skrzyżowaniu świeci się zielone światło, a policjant zabrania jazdy?
8. Czy wolno wyprzedzać pojazd uprzywilejowany?
9. Jaka jest różnica między wymijaniem a omijaniem?
10. W jakich miejscach zabronione jest zawracanie?
11. W jakich miejscach zabronione jest wyprzedzanie?
12. Kto może otrzymać kartę rowerową?
13. Po której części drogi porusza się rowerzysta, jeżeli:
 - a) droga posiada szerokie, równe pobocze
 - b) droga nie posiada pobocza?
14. Co oznacza światło
 - a) czerwone
 - b) zielone
 - c) żółte /pomarańczowe/na sygnalizatorze świetlnym?
15. Jakie czynności wykonasz, jeżeli chcesz skręcić w prawo?
16. Ile lat musi ukończyć osoba, aby mogła przewozić na rowerze inną osobę?
17. Ile maksymalnie rowerów może jechać w zorganizowanej kolumnie?
18. Jaka jest maksymalna odległość między rowerami poruszającymi się w kolumnie rowerów jednośladowych?
19. Jakie powinny być odstępy pomiędzy kolumnami rowerzystów?
20. Ile sprawnych hamulców musi mieć obowiązkowo rower?
21. Kto lub co decyduje w pierwszej kolejności o ruchu na skrzyżowaniu?
22. Kiedy następuje włączanie się do ruchu?

§3. PIERWSZA POMOC PRZEDLEKARSKA

1. Pod jaki numer zadzwonisz, gdy trzeba wezwać :
 - a) pogotowie
 - b) policję
 - c) straż pożarną?

2. Co nałożysz na zranioną rękę, aby ją opatrzyć:
 - a) opatrunek z jałowej gazy
 - b) watę?
 Dlaczego?
3. Jeżeli osoba poszkodowana w wypadku ma złamaną nogę, czy wolno ci to złamanie nastawić? Dlaczego?
4. Czy można zostawić ofiary wypadku bez opieki? Dlaczego?
5. Jak należy postąpić, gdy chcesz odkryć ranę w celu jej opatrzenia?
 - a) zdjąć rannemu ubranie ze zranionej części ciała
 - b) rozciąć tę część ubrania, która zakrywa dostęp do rany
 Dlaczego?

§4. ZNAKI DROGOWE

Do jakiej grupy znaków drogowych należą i co oznaczają następujące znaki?

1.

| | | | |
|-----------------------------------------------------------------------------------|-----------------------------------------------------------------------------------|-----------------------------------------------------------------------------------|-------------------------------------------------------------------------------------|
|  |  |  |  |
| A-7 | B-2 | C-13 | D-1 |
2.

| | | | |
|-------------------------------------------------------------------------------------|-------------------------------------------------------------------------------------|-------------------------------------------------------------------------------------|---------------------------------------------------------------------------------------|
|  |  |  |  |
| A-16 | B-20 | C-12 | D-6 |
3.

| | | | |
|-------------------------------------------------------------------------------------|-------------------------------------------------------------------------------------|-------------------------------------------------------------------------------------|---------------------------------------------------------------------------------------|
|  |  |  |  |
| A-17 | B-9 | C-16 | D-40 |
4.

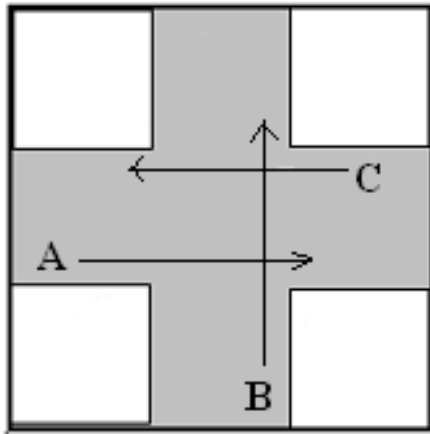
| | | | |
|-------------------------------------------------------------------------------------|-------------------------------------------------------------------------------------|-------------------------------------------------------------------------------------|---------------------------------------------------------------------------------------|
|  |  |  |  |
| A-1 | B-36 | C-1 | D-3 |
5.

| | | | |
|-------------------------------------------------------------------------------------|-------------------------------------------------------------------------------------|-------------------------------------------------------------------------------------|---------------------------------------------------------------------------------------|
|  |  |  |  |
| A-6a | B-41 | C-2 | D-2 |

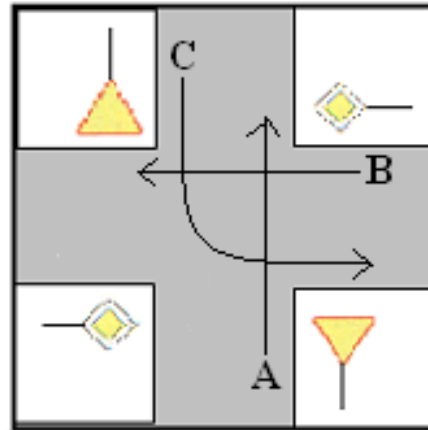
§5. PIERWSZEŃSTWO PRZEJAZDU NA SKRZYŻOWANIU

W jakiej kolejności pojazdy opuszczą skrzyżowanie? Dlaczego?

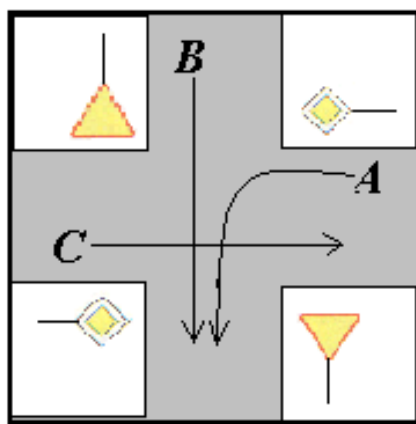
1.



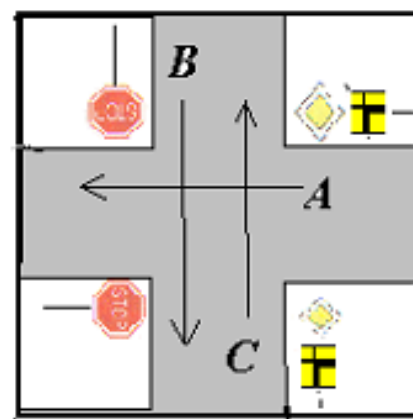
2.



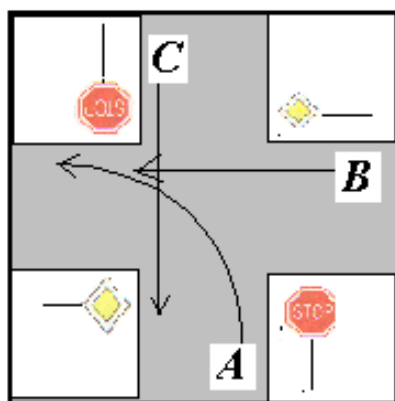
3.



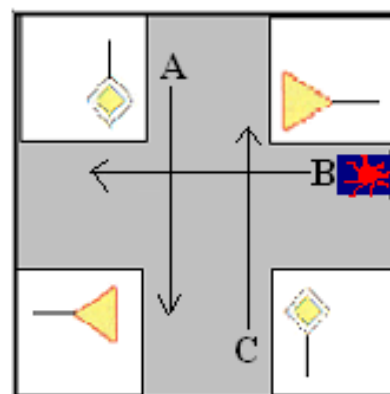
4.



5.



6.

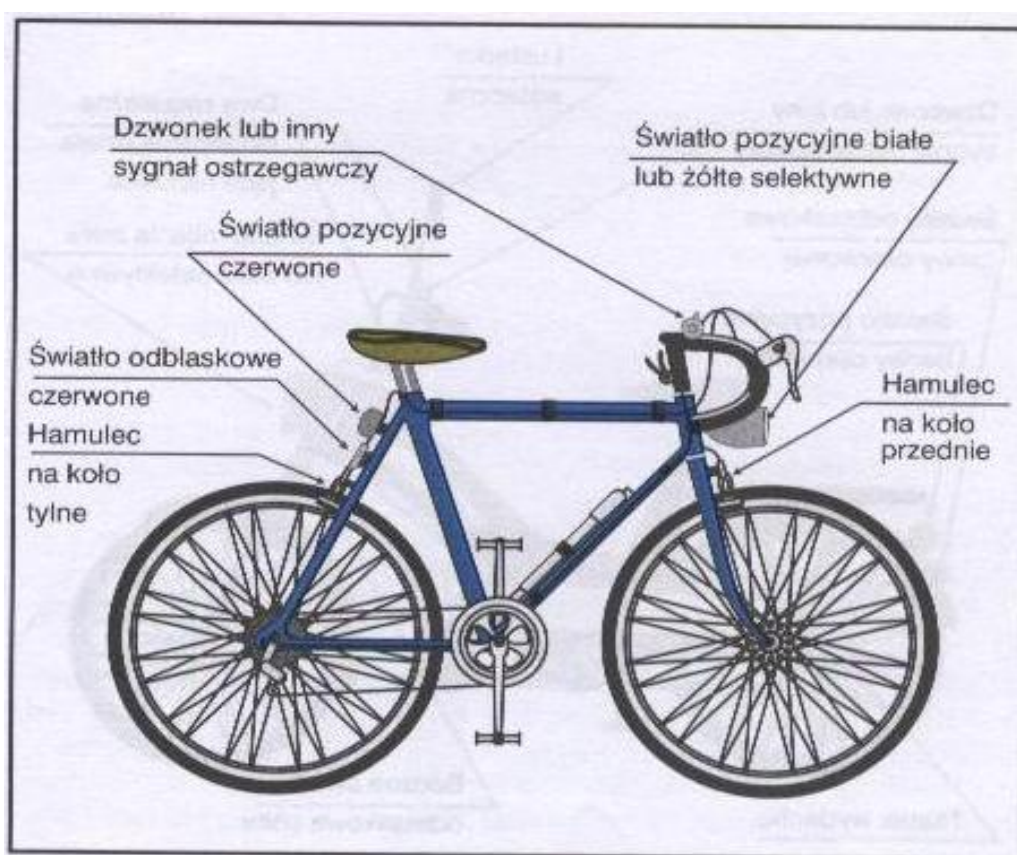


ODPOWIEDZI:

§1. OBOWIĄZKOWE WYPOSAŻENIE ROWERU

Rower obowiązkowo musi być wyposażony w:

- co najmniej jeden skutecznie działający hamulec,
- dzwonek lub inny sygnał ostrzegawczy o nie przeraźliwym dźwięku
- światła:
 - z przodu**
 - jedno światło pozycyjne barwy białej lub żółtej selektywnej,
 - z tyłu**
 - jedno światło pozycyjne barwy czerwonej,
 - jedno światło odblaskowe barwy czerwonej o kształcie innym niż trójkąt.



§2. ZASADY RUCHU DROGOWEGO


1. **Droga** nazywamy wydzielony pas terenu przeznaczony do ruchu lub postoju pojazdów oraz do ruchu pieszych, łącznie z poboczem oraz torowiskiem pojazdów szynowych.

Elementami drogi są:

- chodnik
- parking
- jezdnia
- pobocze
- rów

2. **Przeście dla pieszych** to powierzchnia drogi przeznaczona do przekraczania jezdni lub torowiska pojazdów szynowych przez pieszych, oznaczona odpowiednimi znakami:

- w miejscu przejścia dla pieszych namalowane są białe pasy (zebra)



oraz ustawiony jest znak informacyjny D-6 „Miejsce przejścia dla pieszych”



- w pewnej odległości przed miejscem przejścia dla pieszych ustawiony jest znak ostrzegawczy A-16 „Przeście dla pieszych”



3. **Pojazd uprzywilejowany** to pojazd wysyłający sygnały świetlne w postaci niebieskich świateł błyskowych (lub niebiesko-czerwonych) oraz jednocześnie sygnały dźwiękowe o zmiennym tonie.

Pojazdem uprzywilejowanym jest np. karetka pogotowia, wóz strażacki lub wóz policyjny „w akcji”

4. **Ustąpić pierwszeństwa przejazdu** to znaczy obowiązkowo przepuścić wszystkie pojazdy nadjeżdżające drogą poprzeczną (główną) – zarówno z lewej jak i z prawej strony.

5. **Widząc jadący pojazd uprzywilejowany** należy bezwzględnie go przepuścić. Należy więc zjechać na pobocze i zatrzymać się lub zwolnić i jechać jak najbliżej prawej krawędzi jezdni tak, by pojazd uprzywilejowany miał wolną drogę.

6. **Zasada ruchu prawostronnego** mówi, że pojazdy powinny jechać prawą stroną jezdni, jak najbliżej jej prawej krawędzi. Jeżeli droga posiada dwie jezdnie, to wolno jechać jedynie po prawej jezdni.

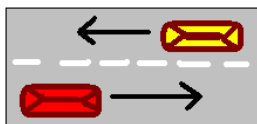
Rowerzyści mają obowiązek poruszania się po poboczu chyba, że nie nadaje się ono do jazdy lub ruch roweru utrudniałby ruch pieszych – wtedy rowerzysta porusza się po jezdni jak najbliżej jej prawej krawędzi.

7. **Gdy na skrzyżowaniu świeci się zielone światło a policjant zabrania jazdy** należy słuchać poleceń policjanta, czyli zatrzymać się.

W pierwszej kolejności słuchamy poleceń osoby kierującej ruchem, potem sygnałów nadawanych przez urządzenia umieszczone na drodze (sygnalizatory), następnie znaków drogowych a na końcu przepisów drogowych.

8. **Pojazdu uprzywilejowanego wyprzedzać** nie wolno. Należy mu bezwzględnie ustąpić pierwszeństwa.

9. **Wymijanie** jest to przejeżdżanie obok uczestnika ruchu poruszającego się w przeciwnym kierunku.



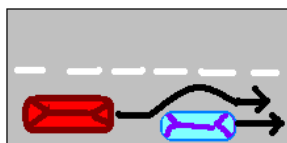
Omijanie jest to przejeżdżanie obok nie poruszającego się uczestnika ruchu lub przeszkody.



10. **Zawracanie zabronione jest:**

- w tunelu na mostach i wiaduktach
- na drogach jednokierunkowych
- tam, gdzie mogłyby to zagrażać bezpieczeństwu ruchu drogowego lub ten ruch utrudniać.

11. **Wyprzedzanie** to przejeżdżanie obok uczestnika ruchu poruszającego się w tym samym kierunku.



Wyprzedzanie jest zabronione:

- przy dojeżdżaniu do wierzchołka wzniesienia,
- na zakrętach oznakowanych znakami ostrzegawczymi,
- na przejściach dla pieszych i tuż przed nimi
- na przejazdach kolejowych i tuż przed nimi,
- na skrzyżowaniach.

12. **Kartę rowerową może uzyskać** osoba, która ma ukończone 10 lat oraz zdała egzamin z przepisów o ruchu drogowym i z umiejętności jazdy i kierowania rowerem.

13. **Jeżeli droga posiada szerokie, równe pobocze** rowerzysta porusza się po tym poboczu, ale tak, by nie utrudniać ruchu pieszych.

Jeżeli droga nie posiada pobocza rowerzysta porusza się po jezdni, ale jak najbliżej jej prawej krawędzi.

14. **Światła na sygnalizatorze** świetlnym oznaczają:

- czerwone - stój
- żółte - uwaga, przygotuj się, będzie zmiana świateł
- zielone - jedź (idź)

15. **Gdy chcemy skrócić w prawo** należy:

- upewnić się, czy nie utrudnimy jazdy innym uczestnikom ruchu,
- zasygnalizować zamiar wykonania skrętu wyciągniętą prawą ręką
- zbliżyć się do prawej krawędzi jezdni,
- ostrożnie jechać w prawo.

16. **Przewozić na rowerze inną osobę** może osoba, która ukończyła 17 lat.

17. **W zorganizowanej kolumnie** może jechać maksymalnie 15 rowerów.

18. **Maksymalna odległość między rowerami** poruszającymi się w kolumnie rowerów jednośladowych wynosi 5 metrów.

19. **Odstępy pomiędzy kolumnami rowerzystów** powinny wynosić 200 metrów.
20. **Każdy rower musi mieć obowiązkowo** co najmniej jeden sprawnie działający hamulec.
21. **O ruchu na skrzyżowaniu decyduje** w pierwszej kolejności policjant kierujący ruchem. Jeżeli nie ma policjanta o ruchu na skrzyżowaniu decyduje sygnalizacja świetlna. Jeżeli sygnalizacja świetlna nie działa – o ruchu na skrzyżowaniu decydują znaki drogowe a w ostateczności przepisy.
22. **Włączanie się do ruchu** następuje przy rozpoczynaniu jazdy po zatrzymaniu się lub postoju nie wynikającym z warunków lub przepisów ruchu drogowego, jak również przy wyjeżdżaniu:
 - a) na drogę z nieruchomości, z parkingu, ze strefy zamieszkania
 - b) z pola na drogę
 - c) z pobocza, z drogi dla rowerów na jezdnię.

§3. PIERWSZA POMOC PRZEDLEKARSKA

1. **Numery telefonów:**
 - 999- pogotowie ratunkowe
 - 998- straż pożarna
 - 997- policja
2. **Na zranioną rękę**, aby ją opatrzyć należy nałożyć opatrunek z jałowej gazy, gdyż na ranę przykładając opatrunek sterylny, to znaczy pozbawiony drobnoustrojów (bakterii).
Wata mogłaby przykleić i ją zanieczyścić, a usuwając ją z okolic rany można chorego narazić na ból.
3. Jeżeli osoba poszkodowana w wypadku ma **złamaną nogę**, nie wolno złamaną kończyną poruszać, ani „poprawiać” jej ułożenia, które wydaje się nieprawidłowe. Można w ten sposób zrobić poszkodowanemu jeszcze większą krzywdę i sprawić ból. Złamaną kończynę można jedynie unieruchomić i to w sposób najmniej sprawiający choremu ból.
Właściwej pomocy udzieli lekarz.
4. Ofiary wypadku **nie wolno zostawić bez opieki**. Jest to obowiązek każdego uczestnika ruchu drogowego.
Poszkodowany będąc w „szoku powypadkowym” mógłby zrobić sobie krzywdę lub gdzieś pójść nie zdając sobie z tego sprawy, więc należy się nim opiekować. Ponieważ ranny mógł doznać wstrząsu, należy okryć go kocem lub ubraniem i jeżeli jest przytomny podać coś ciepłego do picia. Osobom nieprzytomnym nie wolno podawać żadnych płynów.
4. Aby **opatrzyć choremu ranę** należy rozciąć część ubrania zakrywającą dostęp do rany.
Zdejmując ubranie można choremu zrobić krzywdę, urazić go, narazić na jeszcze większy ból.

§4. ZNAKI DROGOWE

1. A – 7 - znak ostrzegawczy – „*Ustąp pierwszeństwa*”
B – 2 - znak zakazu – „*Zakaz wjazdu*”
C – 13 - znak nakazu – „*Droga dla rowerów*”
D – 1 - znak informacyjny – „*Droga z pierwszeństwem*”
2. A – 16 - znak ostrzegawczy – „*Przeście dla pieszych*”
B – 20 - znak zakazu – „*Stop*”
C – 12 - znak nakazu – „*Ruch okrężny*”
D – 6 - znak informacyjny – „*Przeście dla pieszych*”
3. A – 17 - znak ostrzegawczy – „*Dzieci*”
B – 9 - znak zakazu – „*Zakaz wjazdu rowerów*”
C – 16 - znak nakazu – „*Droga dla pieszych*”
D – 40 - znak informacyjny – „*Strefa zamieszkania*”
4. A – 1 - znak ostrzegawczy – „*Niebezpieczny zakręt w prawo*”
B – 36 - znak zakazu – „*Zakaz zatrzymywania się*”
C – 1 - znak nakazu – „*Nakaz jazdy w prawo (przed znakiem)*”
D – 3 - znak informacyjny – „*Droga jednokierunkowa*”
5. A – 6a - znak ostrzegawczy – „*Skrzyżowanie z drogą podporządkowaną występującą po obu stronach*”
B – 41 - znak zakazu – „*Zakaz ruchu pieszych*”
C – 2 - znak nakazu - „*Nakaz jazdy w prawo (za znakiem)*”
D – 2 - znak informacyjny – „*Koniec drogi z pierwszeństwem*”

§5. PIERWSZEŃSTWO PRZEJAZDU NA SKRZYŻOWANIU

1. Skrzyżowanie bez znaków.
Jako pierwszy pojedzie pojazd C, gdyż ma prawą stronę wolną.
Następnie pojedzie pojazd B, gdyż zwołniła się jego prawa strona.
Na końcu pojedzie pojazd A.

C B A

2. Skrzyżowanie ze znakami.
Pojazd B jest na drodze z pierwszeństwem, więc pojedzie pierwszy.
Pojazdy A i C są na drodze podporządkowanej, ale C ma do wykonania trudniejszy manewr - skręt w lewo, więc musi przepuścić pojazd A, który jedzie na wprost. Drugi pojedzie pojazd A, a ostatni C.

B A C

3. Skrzyżowanie ze znakami

Pojazdy A i C są na drodze z pierwszeństwem, ale A ma do wykonania trudniejszy manewr - skręt w lewo, więc musi przepuścić pojazd C, który jedzie na wprost. C pojedzie pierwszy, za nim pojazd A.

Pojazd B jest na drodze podporządkowanej, więc pojedzie jako ostatni.

C A B

4. Skrzyżowanie ze znakami

Pojazdy A i C są na drodze z pierwszeństwem i A ma prawą stronę wolną, więc pojedzie pierwszy. Za nim pojedzie pojazd C. Pojazd B jest na drodze podporządkowanej, więc pojedzie ostatni.

A C B

5. Skrzyżowanie ze znakami

Pojazd B jest na drodze z pierwszeństwem, więc pojedzie pierwszy.

Pojazdy A i C są na drodze podporządkowanej, ale A ma do wykonania trudniejszy manewr - skręt w lewo, więc musi przepuścić pojazd C, który jedzie na wprost. Drugi pojedzie pojazd C, ostatni – pojazd A.

B C A

6. Skrzyżowanie ze znakami

Pojazd B to pojazd uprzywilejowany – na sygnale – więc mimo, że jest na drodze podporządkowanej, pojedzie jako pierwszy.

Ponieważ kierunki ruchu pojazdów A i C nie krzyżują się – pojedą one jednocześnie.

B A i C